

## HOVÁ LETT A TERMÉSZET?

 EGYÉNI FELADAT

A tündérek idején burjánzott természet, rengeteg különleges és mesés növény volt, még talán égisz bab is! Azonban az emberek egyre több teret foglaltak el: eltűntek a folyó menti nádasok és lápok, és azokat szépen lassan felváltották a búzatáblák, a gyártelepek, a legelők és az egyre növekvő falvak és városok. Segíts a tündéreknek megtalálni a természet nyomait az emberek világában!

**Nézz körül és figyeld meg, hogy hány fajta fa van ezen a téren! És hányféle virágot találtál?  
Vannak más növények is? Írd le a nevüket, és azt, amit megfigyeltél rajtuk!**








--	--	--

## MIÉRT JÖNNÉNEK VISSZA A TÜNDÉREK?



A tündéreknek 777 év elteltével lehetőségük van visszatérni hozzánk az emberek világába!

**Nézz körbe! Szerinted melyik tündér érezné itt jól magát? Mi tetszene itt neki és mi nem?  
Hogyan oldhatnánk meg a problémákat, hogy visszatérjenek közénk?**

TETSIK NEKI	LÁTÓ TÜNDÉR 	ZAVARJA	TETSIK NEKI	HALLÓ TÜNDÉR 	ZAVARJA
TETSIK NEKI	SZAGLÓ TÜNDÉR 	ZAVARJA	TETSIK NEKI	TAPINTÓ TÜNDÉR 	ZAVARJA
TETSIK NEKI				ZAVARJA	

## HOL LAKNA A TÜNDÉRED?



EGYÉNI FELADAT


- Keressd meg a vízitündért a repkény alatt! (féldomborművek a saroképületen)
- Keressd meg az épület másik oldalán is a féldomborműveket és rajzold le azt a részletet, ami a legjobban tetszik a homlokzaton!

## MIRE VALÓ EZ A HÁZ?



A világ teljesen megváltozott mióta a tündérek elköltöztek! Emlékeztek még? Az emberek kivágták a tündérek kedvenc folyóparti fáit, és kiegyenesítették a patakok girbegurba folyását, hogy építkezni és gazdálkodni tudjanak. A folyó medrét felásták, hogy kitermeljék a kavicsot az egyre magasabb házaik építéséhez. Segítsetek a tündéreknek megismerkedni az emberek épületeivel!

**a) Rajzold be a falburkolat mintázatát a különböző szinteken!  
Írd le mindegyik szint mintázatát egy-egy szóval!**



**b) Segítsetek a tündéreknek megtalálni a betűkkel jelölt részleteket/szinteket az épületen!**

Jelöld be őket az épületen:

- a) pince b) alagsor c) földszint d) tetőtér  
e) padlás f) emelet g) kirakat

**c) Melyik szintnek mi a funkciója? Mire használják?**


(Pl. üzlethelyiség, tárolás, lakás stb.)

## MILYEN LEHETETT A TÜNDÉREK IDEJÉN?


 EGYÉNI FELADAT

A tündérek ugyan több mint 777 éve költöztek el az emberek világából, az emberek azonban még mindig emlékeznek rájuk. Ha figyelmesen körül nézel, felfedezheted a nyomaikat (pl. növényeket, mesebeli alakokat és lényeket) a házak falain, a tetőkön, a kerítéseken.


**Figyeld meg az utca épületeit! Melyik házon látod az alábbi részleteket? Írd a kép mellé a házszaámot!**




HÁZSZÁM




HÁZSZÁM




HÁZSZÁM



HÁZSZÁM



HÁZSZÁM




HÁZSZÁM

## MILYEN LEHETETT A TÜNDÉREK IDEJÉN?

 EGYÉNI FELADAT

A tündérek ugyan több mint 777 éve költöztek el az emberek világából, az emberek azonban még mindig emlékeznek rájuk. Ha figyelmesen körül nézel, felfedezheted a nyomaikat (pl. növényeket, mesebeli alakokat és lényeket) a házak falain, a tetőkön, a kerítéseken.

**Figyeld meg az utca épületeit! Melyik házon látod az alábbi részleteket? Írd a kép mellé a házszámot!**



HÁZSZÁM



HÁZSZÁM



HÁZSZÁM



HÁZSZÁM



HÁZSZÁM



HÁZSZÁM